

2021年度 玉川学園中学部 入学試験問題

第1回

社 会

- 試験開始まで、この問題冊子を開いてはいけません。
- 解答はすべて解答用紙に記入下さい。

1 次の(1)～(10)の各問いに答えなさい。

(1) 漢字や仏教を日本に伝え、朝鮮や中国から移り住んだ人たちを何といいますか。
漢字で答えなさい。

(2) 1232年、鎌倉幕府が御家人に向けて定めた日本最初の武家法を何といいますか。
漢字で答えなさい。

(3) 六波羅探題^せを攻め、その後征夷大將軍になって京都に幕府を開いた人物はだれですか。
漢字で答えなさい。

(4) 豊臣秀吉の政策の1つで、全国の農民から武具をとりあげた政策は何ですか。漢字で
答えなさい。

(5) 1582年、織田信長が明智光秀によって討たれた寺を何といいますか。漢字で答えなさい。

(6) 1874年、民撰議院設立の建白書を出した人物はだれですか。漢字で答えなさい。

(7) 日本で一番流域面積が大きい河川は何ですか。次の中から記号で1つ選びなさい。

(ア) 利根川 (イ) 信濃川 (ウ) 四万十川 (エ) 北上川

(8) 「三大工業地帯」といわれるのは、阪神工業地帯・中京工業地帯とどこですか。次の
中から記号で1つ選びなさい。

(ア) 瀬戸内工業地域 (イ) 北九州工業地帯 (ウ) 東海工業地域 (エ) 京浜工業地帯

(9) 国際連合の一部で、世界保健機関^{りやくしやう}の略称は何ですか。次の中から記号で1つ選びなさい。

(ア) WHO (イ) UNESCO (ウ) IMF (エ) UNICEF

(10) 1946年に日本国憲法が公布されたのは、いつですか。次の中から記号で1つ選びなさい。

(ア) 1月1日 (イ) 5月3日 (ウ) 10月10日 (エ) 11月3日

2 玉川くんは沖縄県へ旅行に行きました。そこで、旅行記としてめぐった所についてまとめました。

沖縄県は、日本の都道府県の中で最も西側に位置する県で、多くの島々から成り立っていて、(A)と太平洋に挟まれています。この県は、日本の最西端の島である(B)があり、ここは日本の最東端、最南端、最北端の島の中で唯一、日本の公共交通機関を利用して行くことができる島です。沖縄県の面積は香川県、大阪府、(a)東京都に次いで4番目に小さいですが、県の東端から西端までは約1000km、北端から南端までは約400kmと広大な海域から成り立っています。また気候は東京に比べると平均気温や降水量が高く、(b)県庁所在地の年間平均気温は約23℃、年間降水量は約2000mmとなっています。特に夏は暑くなるイメージがありますが、調べてみると、(c)最高気温が35℃を超える猛暑日になることは少ないことがわかりました。

旅行の初日、玉川くんは羽田空港から飛行機に乗り、沖縄に向かいました。そして、沖縄都市モノレールに乗り、(1)に登録されている首里城跡を見に行きました。14世紀中ごろ、この県には北山・中山・南山の3王国があり、互いに争っていました。(d)15世紀に中山が他の2つの王国を統一し、首里を都とした(C)が誕生しました。その時、王の居城として首里城が整備されました。ここは2019年に火事があり、中に入って見学することができず、とても残念でした。

レンタカーを借り、次に向かったのは平和祈念公園です。まず、公園内にある平和祈念資料館を見学しました。この資料館は、沖縄の歴史や(2)などの展示がありました。(2)は、1941年に日本が(e)アメリカ合衆国やイギリスを中心とする連合国に宣戦布告したことから始まりました。1942年、ミッドウェー海戦での敗戦後、日本の戦局は徐々に悪くなり、1945年の3月10日にはアメリカ軍による(D)がありました。また同年の4月1日にアメリカ軍が沖縄島に上陸し、日本で唯一、民間人をまきこんだ地上の戦闘が行われました。そして8月14日に日本は(E)宣言を受け入れて、15日に降伏を国民に知らせました。その後、日本は連合国軍の占領下におかれ、(f)日本の民主化が進められていきました。

玉川くんは外に出てこの公園内を散策しました。ここは海辺に位置し沖縄の壮大な自然を感じられる一方で、平和の礎が広がっていました。今なお、戦争で犠牲になった人の名前が、敵味方関係なく礎に刻まれているようです。

その後、名護市内にあるホテルに向かうためにレンタカーで移動をしました。ホテルでチェックインをした後、家族で夕飯を食べに行きました。そこでは(g)沖縄県で育てているフルーツをたくさん食べました。

(1) 文中の(A)～(E)にあてはまる言葉を、次の中から記号で1つずつ選びなさい。

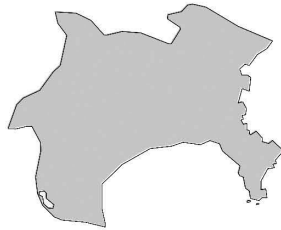
- | | | | |
|-----------|----------|----------|----------|
| (ア) 東京大空襲 | (イ) 沖縄戦 | (ウ) 日本海 | (エ) 東シナ海 |
| (オ) 択捉島 | (カ) 南鳥島 | (キ) 与那国島 | (ク) 沖ノ鳥島 |
| (ケ) 琉球王国 | (コ) 沖縄王国 | (サ) ヤルタ | (シ) ポツダム |

(2) 文中の(1)にあてはまる言葉を漢字で答えなさい。

(3) 文中の(2)にあてはまる言葉を漢字で答えなさい。

(4) 文中の下線部(a)について、東京都を表している地図を次の中から記号で1つ選びなさい。

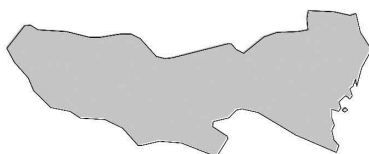
(ア)




(イ)



(ウ)



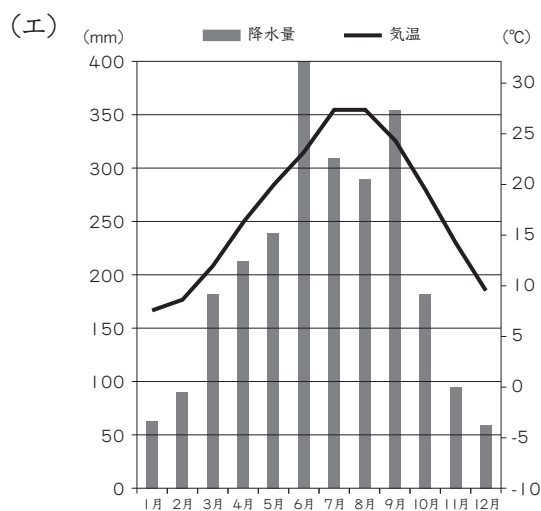
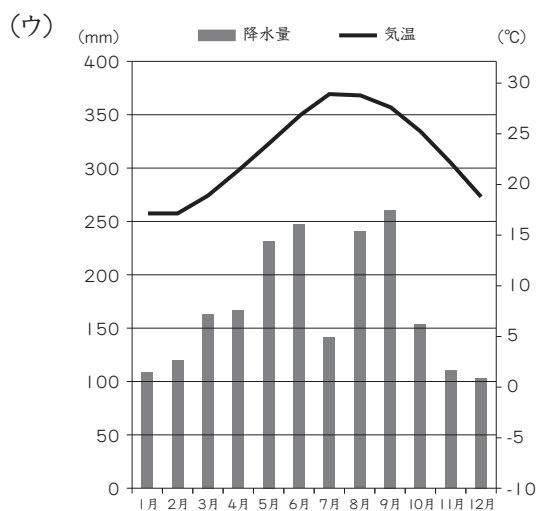
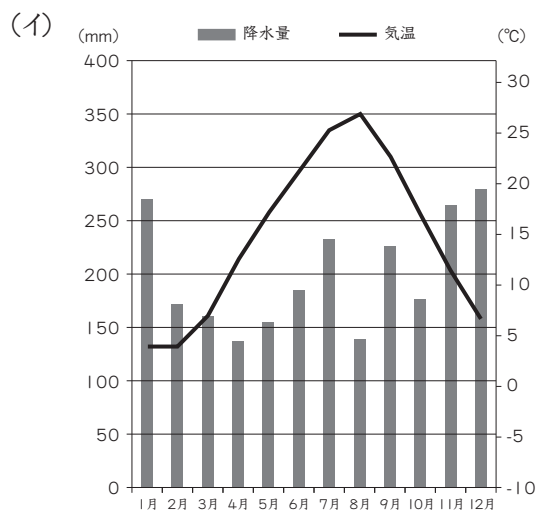
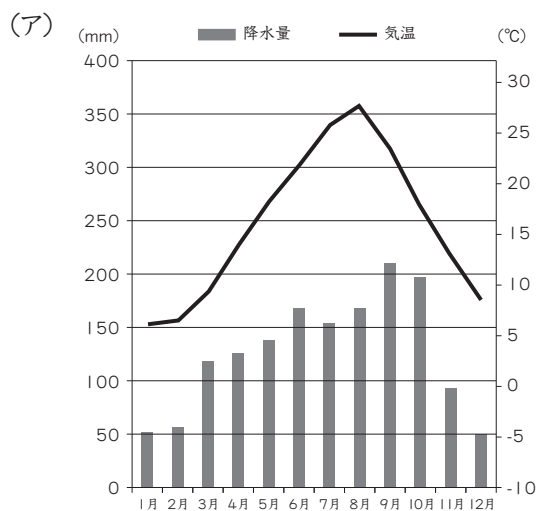
(エ)



(5) 文中の下線部 (b) について、以下の問いに答えなさい。

① 県庁所在地を漢字で答えなさい。

② 県庁所在地の雨温図として正しいものを、次の中から記号で1つ選びなさい。



(6) 文中の下線部 (c) について、なぜ猛暑日になる日が少ないのですか。理由を説明しなさい。

(7) 文中の下線部 (d) について、この世紀の間に起こった出来事として正しいものを次の中から記号で2つ選びなさい。

(ア) 後醍醐天皇が奈良の吉野に南朝をたてた。

(イ) 織田信長が室町幕府を滅ぼした。

(ウ) 将軍のあとつぎ問題から応仁の乱が起こった。

(エ) 足利義満が2つに分かれていた朝廷を統一した。

(オ) 京都の東山に銀閣が建てられた。

(8) 文中の下線部 (e) について、その国の場所として正しいものを次の世界地図の中から記号で1つ選びなさい。



(9) 文中の下線部 (f) について、戦後の民主化政策として正しいものを次の中から記号で2つ選びなさい。

(ア) 20才以上の男女に選挙権が与えられた。

(イ) 25才以上の全ての男子に衆議院の選挙権が与えられた。

(ウ) 平塚らいてうたちが、女性の地位向上を求める運動を行った。

(エ) 大日本帝国憲法が定められ、法律の^{はんい}範囲の中で、言論、集会、結社の自由を認められた。

(オ) 日本国憲法が定められ、その中で国民主権、平和主義、基本的人権の尊重がうたわれた。

(10) 文中の下線部 (g) について、この県で生産量が日本一のフルーツを次の中から記号で2つ選びなさい。

(ア) スイカ

(イ) メロン

(ウ) パイナップル

(エ) モモ

(オ) マンゴー

(カ) レモン

問題は次のページに続きます。

3 玉川くんは、家族とスーパーに夕食の買い物に行きました。そこでは新鮮な野菜やフルーツ、肉類がたくさん置いてあり、日本国内だけでなく海外から食料を輸入していることがわかりました。しかし、お米を売っている所に行くと、そこには国産のお米しか置いてありませんでした。玉川くんは疑問に思ったので、お米に関することを調べました。次の資料を読み、各問いに答えなさい。

資料 1

〈米の生産量が多い都道府県〉

都道府県名	収穫量 (t)	割合 (%)
(A)	611700	7.8
北海道	581800	7.4
秋田県	498800	6.4
山形県	385700	4.9
茨城県	358900	4.6

参考資料：矢野恒太記念会「日本国勢図会 2018 / 2019」

資料 2

〈1kgあたりの米の値段〉 2018年

日本産(国産)	264円
アメリカ産	102円
タイ産	51円

参考資料：「米をめぐる関係資料 令和2年7月」
(農林水産省)

資料 3

〈米の需給の変化〉

	1990年	2000年	2010年	2014年	2015年
生産量 (t)	10499000	9490000	8554000	8628000	8429000
輸出量 (t)	0	462000	201000	96000	116000
輸入量 (t)	50000	879000	831000	856000	834000
1人あたりの供給量(kg)	70.0	64.6	59.5	55.6	54.6

参考資料：矢野恒太記念会「日本国勢図会 2018 / 2019」

(1) 資料1の(A)にあてはまる米の生産量が日本一の都道府県名を次の中から記号で1つ選びなさい。

(ア) 長野県

(イ) 新潟県

(ウ) 宮城県

(エ) 福島県

(2) 資料3の内容を見ると、米の生産量や国民1人あたりの米の供給量は減ってきています。なぜ減ってきていると思いますか。考えられる理由として正しいものを次の中から記号で1つ選びなさい。

(ア) 政府の政策により、生産した米を全て買いとったから。

(イ) 政府の政策により、米を生産する農家に補助金を出すようになったから。

(ウ) 政府の政策により、田んぼの面積を減らしたから。

(エ) 政府の政策により、輸出用の米を作り出したから。

(3) 資料1～3の資料から読み取れることとして、正しいものを次の中から記号で1つ選びなさい。

(ア) 資料1を見ると、表に書かれている5つの都道府県の生産量の割合の合計は35%を超えている。

(イ) 資料2を見ると、日本の米の値段は、タイの米の値段の約5分の1である。

(ウ) 資料3を見ると、2015年の米の生産量は8429万tである。

(エ) 資料3を見ると、日本の米の生産量は1990年から2015年にかけて増減しながら結果的に減っている。

(4) 政府は海外の安い米が国内で安い値段で出回らないように、海外の米に高い税をかけています。このように海外から商品を輸入するときにかかる税を何といいますか。漢字2文字で答えなさい。

(5) 日本の米の値段は高いですが、今後輸出量を伸ばしていくために、農家や政府はどんな工夫をしたら良いですか。あなたの考えを説明しなさい。